




Artículos Educativos

Primero de Primaria


ÁLGEBRA





REEMPLAZO DE ADICION HASTA EL 20


Si  vale 5.

Entonces:

a)  + 3 =

b) 7 +  =

c)  + 8 =



Actividades

- 1 Reemplaza el valor de  por 7 y completa:


$$\text{musician emoji} + 6 = \boxed{}$$

Resolución:

$$\text{musician emoji} + 6 = \boxed{13} \quad 7 + 6 = 13$$

- 2 Reemplaza el valor de  por 8 y completa:

$$3 + \text{boy with glasses emoji} = \boxed{}$$

- 3 Reemplaza el valor de  por 5 y completa:

$$\text{mobile phone icon} + 11 = \boxed{}$$

- 4 Reemplaza el valor de  por 9 y completa:

$$\text{cupcake icon} + \boxed{} = 11$$



Exigimos más

5 Reemplaza el valor de  por 11 y completa:

$$\text{tomato icon} + \boxed{} = 17$$

Resolución:

$$\text{tomato icon} + \boxed{} = 17$$

$$11 + \boxed{} = 17$$

$$\boxed{} = 17 - 11$$

$$\boxed{} = 6$$

6 Reemplaza el valor de  por 4 y completa:

$$\boxed{} + \text{sun icon} = 13$$

7 Reemplaza el valor de  por 7 y completa:


$$10 + \text{ice cream icon} = \boxed{}$$

8 Reemplaza el valor de  por 8 y completa:

$$\text{peach icon} + 7 = \boxed{}$$



Demuestro mis habilidades

9 Reemplaza el valor de  por 4 y completa:

$$\text{tiger icon} + 7 = \boxed{}$$

10 Reemplaza el valor de  por 8 y completa:

$$9 + \text{monster icon} = \boxed{}$$

11 Reemplaza el valor de  por 11 y completa:

$$\text{alien icon} + 5 = \boxed{}$$

12 Reemplaza el valor de  por 7 y completa:

$$\text{bus icon} + \boxed{} = 19$$

